





V létě jezdí Amálka hodně na kole.  
Nejraději má, když jedou na výlet jako rodina.

Amálka ráda počítá, kolik kilometrů během výletu ujela.  
Pomůžeš jí tentokrát kilometry spočítat?



Z DOMU VYRAZILI V 9 HODIN RÁNO. PRVNÍ ZASTÁVKA BYLA U VELKÉHO DUBU, COŽ BYLY 4 KM. PAK PŘEJELI LES A ZASTAVILI SE U ODPOČÍVADLA NA SVAČINU, COŽ BYLO DALŠÍCH 5 KM. PAK POKRAČOVALI SMĚREM K VEDLEJŠÍ VESNICI, KDE SE STAVILI NA OBĚD. TO BYLO DALŠÍCH 6 KM. PO OBĚDĚ VYRAZILI K RYBNÍKU, KDE SE VYKOUVALI, COŽ BYLY 2 KM. OD RYBNÍKU DOMŮ TO BYLY 3 KM. KOLIK KM CELKEM URAZILI?




---



---



SPOJ VEVERKU SE SPRÁVNÝM ŽALUDEM.



17 - 8

12 - 7

7 - 5

15 - 9

## PODZIM

Na podzimu má Amálka nejraději barevné listí.  
Ráda si barevné listy sbírá, pozoruje je,  
vyrabí z něho nebo si s ním hraje.



VYPOČÍTEJ PŘÍKLADY.

$12 - 7 = \underline{\quad}$

$11 - 10 = \underline{\quad}$

$6 - 6 = \underline{\quad}$

$13 - 9 = \underline{\quad}$

$9 - 7 = \underline{\quad}$

$10 - 8 = \underline{\quad}$


$12 - 10 = \underline{\quad}$

$20 - 20 = \underline{\quad}$

$19 - 18 = \underline{\quad}$

$12 - 9 = \underline{\quad}$

Když sečteš všechny výsledky, které ti v příkladech vyšly, jaké dostaneš číslo? Napiš je do listu.



AMÁLKA NA PODZIM RÁDA VYDLABÁVÁ DÝNĚ. SPOJ ČÍSLA OD NEJMENŠÍHO PO NEJVĚTŠÍ A VYMALUJ SI DÝŇI.

