





















14.

Urči, co patří na místo otazníku.

				?
				
				
				
				

27

10 24 43 18

- a) 23 d) 22
- b) 26 e) 29
- c) 28 f) 31

nápověda: pátý řádek je 16

15.

Nahraď písmena číslicemi 0–9 tak, aby příklad dával smysl.

$$\begin{array}{r}
 57 \cdot CD = EF4 \\
 \cdot \quad \quad + \quad \quad - \\
 CC + C7 = DF \\
 \hline
 ED7 + D9 = E5E
 \end{array}$$

C = ? D = ? E = ? F = ?

16.

*

Myslím si číslo. Když od něj odečtu 12, výsledek vydělím 2, k tomu přičtu 5, následně vydělím 10 a přičtu k tomu 8, dostanu číslo 13.

Jaké jsem si myslel číslo?

.....