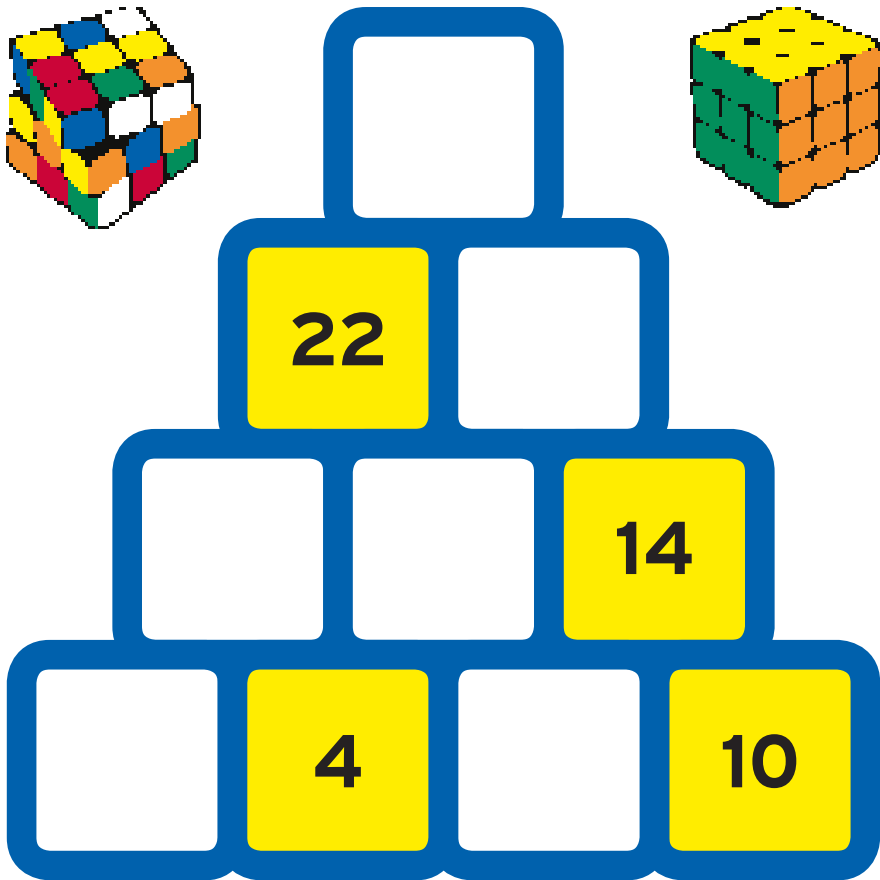

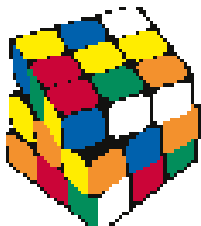
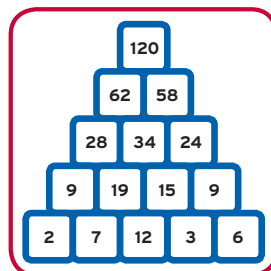


RUBIKOVA KOSTKA

Pojďme se podívat na majestátní pyramidu. Nemyslíme tím ty úžasné starověké stavby v Egyptě, ale naši zapeklitou číselnou pyramidu.

Co s tou pyramidou uděláme? Doplněte do každého prázdného pole číslo. Součet dvou sousedních polí musí odpovídat číslu nad nimi, tři pole tím vytvoří vlastní malinkou pyramidu.



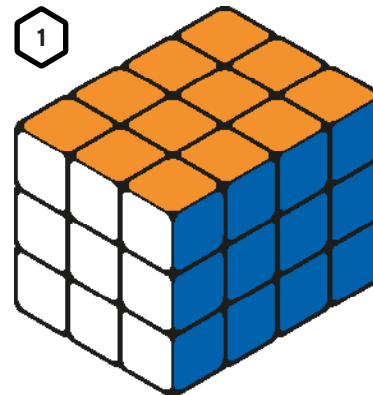
Příklad:



CIHLIČKY

Na prvním obrázku je stavba z 36 cihliček. Na druhém bylo několik cihliček odstraněno. Kolik cihliček zůstalo? Žádná cihlička se nevznáší ve vzduchu. Pokud vidíte jednu, která není úplně vespod, můžete si být jistí, že pod ní jsou další cihličky. Dejte se do počítání!

1



2

