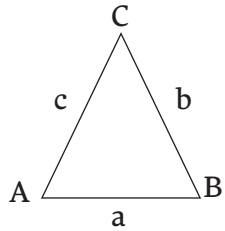


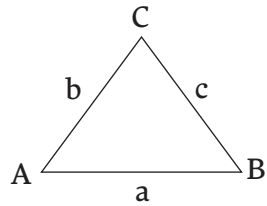
17. Rýsování trojúhelníku



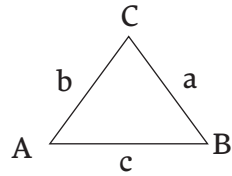
1. Rozhodni, který obrázek trojúhelníku je správně popsáný.



ano/ne



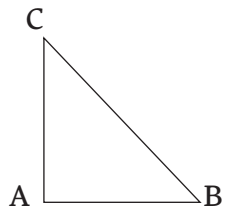
ano/ne



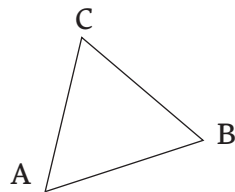
ano/ne



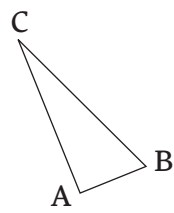
2. Rozhodni, o jaký druh trojúhelníku se jedná.



pravoúhlý/
rovnoramenný



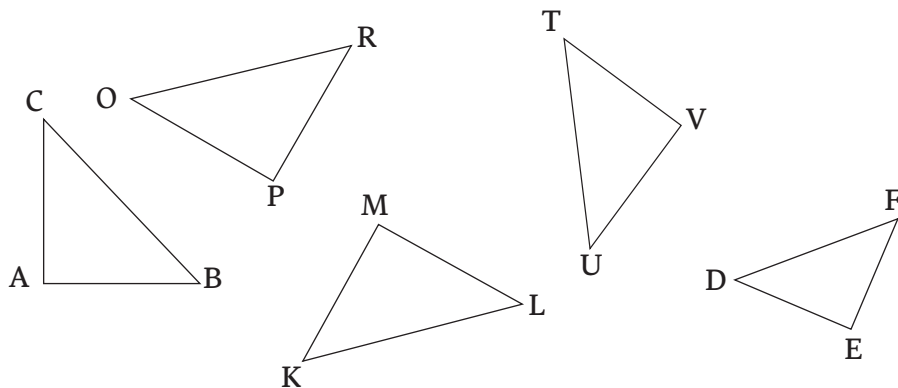
pravoúhlý/
rovnoramenný



pravoúhlý/
rovnoramenný




3. V trojúhelnících barevně vyznač pravý úhel.



4. Narýsuj přímky k , l , které jsou k sobě kolmé. Vyznač zeleně pravý úhel.



5. Vybarvi žlutě všechny pravoúhlé trojúhelníky a vyznač jejich pravý úhel.



6. Narýsuj v každém obdélníku přímku tak, aby v něm vznikly dva pravoúhlé trojúhelníky.

