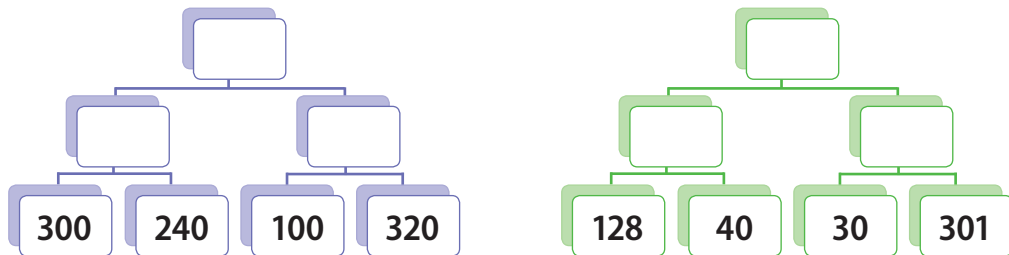

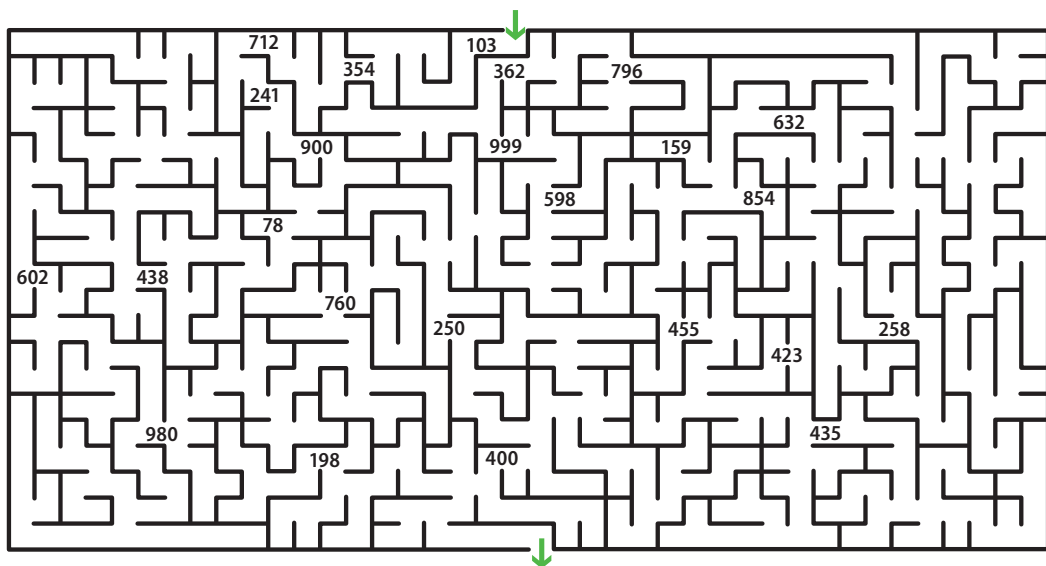


 10. Sečti čísla.



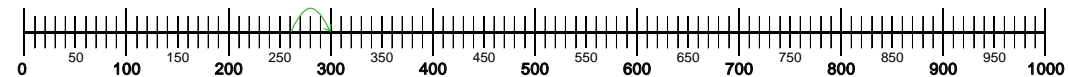
 11. Najdi cestu labyrintem. Čísla, která potkáš během správné cesty, postupně zapisuj na linku. Zapsaná čísla nakonec porovnej od největšího k nejmenšímu.



## 9. Sčítání a odčítání s přechodem násobků sta



### 1. Vypočítej. Číselná řada ti pomůže.



a) $260 + 40 =$ <span style="background-color: #f8d7da; padding: 2px 10px;"> </span>	b) $410 +$ <span style="background-color: #d4edda; padding: 2px 10px;"> </span> $= 500$	c) <span style="background-color: #d1ecf1; padding: 2px 10px;"> </span> $+ 860 = 900$
$530 + 70 =$ <span style="background-color: #f8d7da; padding: 2px 10px;"> </span>	$350 +$ <span style="background-color: #d4edda; padding: 2px 10px;"> </span> $= 400$	<span style="background-color: #d1ecf1; padding: 2px 10px;"> </span> $+ 650 = 700$
$820 + 80 =$ <span style="background-color: #f8d7da; padding: 2px 10px;"> </span>	$480 +$ <span style="background-color: #d4edda; padding: 2px 10px;"> </span> $= 500$	<span style="background-color: #d1ecf1; padding: 2px 10px;"> </span> $+ 60 = 400$
$770 + 30 =$ <span style="background-color: #f8d7da; padding: 2px 10px;"> </span>	$90 +$ <span style="background-color: #d4edda; padding: 2px 10px;"> </span> $= 200$	<span style="background-color: #d1ecf1; padding: 2px 10px;"> </span> $+ 70 = 500$



### 2. Vypočítej.

a) $860 + 50 =$ <span style="background-color: #f8d7da; padding: 2px 10px;"> </span>	b) $650 + 60 =$ <span style="background-color: #d4edda; padding: 2px 10px;"> </span>	c) $640 +$ <span style="background-color: #d1ecf1; padding: 2px 10px;"> </span> $= 720$
$590 + 40 =$ <span style="background-color: #f8d7da; padding: 2px 10px;"> </span>	$870 + 40 =$ <span style="background-color: #d4edda; padding: 2px 10px;"> </span>	$450 +$ <span style="background-color: #d1ecf1; padding: 2px 10px;"> </span> $= 510$
$260 + 50 =$ <span style="background-color: #f8d7da; padding: 2px 10px;"> </span>	$630 + 80 =$ <span style="background-color: #d4edda; padding: 2px 10px;"> </span>	<span style="background-color: #d1ecf1; padding: 2px 10px;"> </span> $+ 40 = 130$
$740 + 90 =$ <span style="background-color: #f8d7da; padding: 2px 10px;"> </span>	$550 + 70 =$ <span style="background-color: #d4edda; padding: 2px 10px;"> </span>	<span style="background-color: #d1ecf1; padding: 2px 10px;"> </span> $+ 30 = 610$



### 3. Vypočítej hady.

