



V	$2 + 8 = 10$	R	$6 - 4 =$
N	$3 + 4 =$	M	$10 - 6 =$
U	$2 + 3 =$	O	$10 - 1 =$
Á	$8 - 5 =$	L	$4 + 4 =$
S	$1 + 5 =$	T	$9 - 8 =$
Š	$17 - 6 =$	!	$16 - 2 =$
D	$12 + 1 =$	I	$20 - 8 =$
A	$8 - 8 =$		

10	2	3	4	5	5	6	7	5	8	9	6	1	2	0	11	12	13	8	9	14	
V																					

Nejprve spočítej příklady. Potom podle výsledků přepiš písmena na správná místa do rámečků dole.

TO JSOU VŠECHNA  
STRAŠIDLA  
NEBEZPEČNÁ?



NEJSOU. PŘEČTEME  
SI O DVOU, KTERÝCH  
SE BÁT NEMUSÍŠ.



Alda je ohnivý kluk. Umí vyčarovat



Létá na



Přál by si mít



Bydlí s kamarádkou Ladou ve starém strašidláckém



hluboko v



Lada je lesní víla. Ráda

při



Zná všechny




a



Společně se starají o




Alda a Lada vstávají o půl osmé.




Po snídani si hrají ve věži s kamarády

strašidly. Společně obědvají v jednu hodinu.




Po obědě jdou na procházku

do lesa, tam pečují o zvířátka. Do hradu se vracejí v pět hodin.



Po večeri

se Alda učí čarovat s ohněm a Lada tancuje. Spát chodí ve tři čtvrtě na devět.



DOPOLEDNE ODPOLEDNE





RÁNO POLEDNE VEČER



DOPOLEDNE ODPOLEDNE

Na hodinách vyznač čas, o kterém se mluví. Potom dole pod obrázky zakroužkuj správnou denní dobu.



121 Kdo se rámostem probudil? Vybarvi černě ty části obrázku, kde jsou čísla větší než číslo 5.